

# TEST Z HUDEBNÍ NAUKY 1.POLOLETÍ

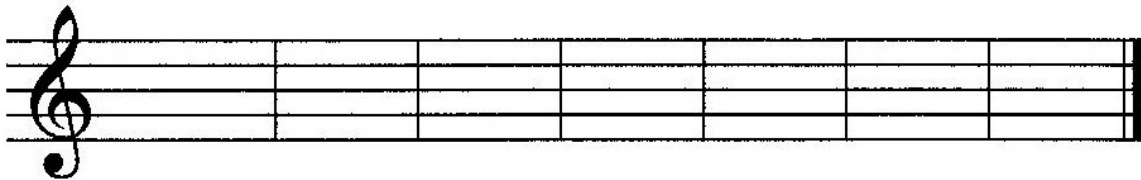
## 3.ROČNÍK

1. Dopln názvy těchto not:



.....

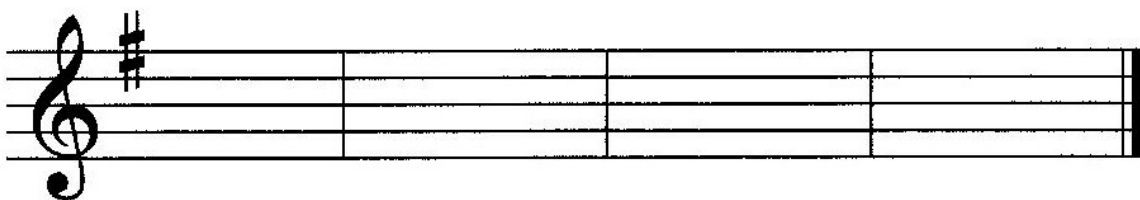
2. Napiš noty:



c<sup>2</sup> malé b f<sup>2</sup> des<sup>1</sup> a<sup>2</sup> e<sup>3</sup> cis<sup>2</sup>

3. Dopln předznamenání k těmto stupnicím:

G dur ..1#.. D dur ..... A dur ..... E dur .....



4. Hlavní stupně ve stupnici :

První stupeň ve stupnici se jmenuje.....

Čtvrtý stupeň ve stupnici se jmenuje.....

Pátý stupeň ve stupnici se jmenuje.....


5. Tónický kvintakord tvoří ..... , ..... a .....  
 stupeň ze stupnice.

**Napiš kvintakordy z těchto stupnic :**




C dur                  G dur                  D dur                  A dur

**1. Oprav chyby ve stupnici A dur :**



**2. Napiš kvintakord a jeho obraty v C dur:**



**3. Jak dělíme mollové stupnice?**

..... bez zvýšených tónů,  
 ..... nahoru i dolů zvyšujeme.....stupeň,  
 ..... nahoru zvyšujeme..... a ..... stupeň,  
 dolů.....

**4. Vypiš názvy intervalů:**

## 10. Dynamika :



Co znamená: *crescendo* .....

*p* ..... *mf* ..... *f* .....

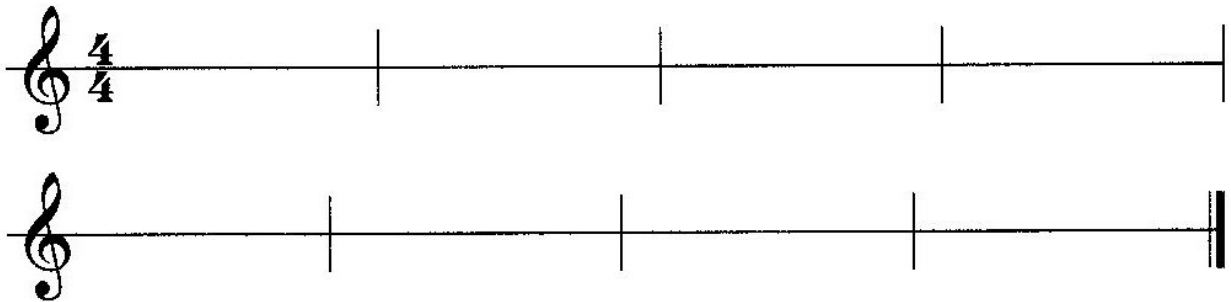
*pp* ..... *ff* .....

 ..... *mp* .....

## 11. Rytmus:

 . počítáme na .....  . počítáme na .....

Doplň (podle sebe) noty a pomlky do čtyřčtvrtového taktu tak, aby v každém taktu byla jedna nota s tečkou.



12. Polka je tanec ve ..... taktu.

Valčík je tanec ve..... taktu.

Napiš názvy dvou písniček : polka .....

.....

valčík.....


.....

### 13. Muzikantská křížovka:

„Muzikant, který hraje v orchestru na tento hudební nástroj dlouho sedí a čeká. Ale najednou se začne hudba zesilovat. Když už se zdá, že silněji hrát nemůže, zvedne se vzadu muzikant rozpřáhne se a jeho nástroj se zablýskne a hudba jako by se polila zlatem...“\*

Poznáte, na který nástroj muzikant hraje?

1. řádek: posuvka, která snižuje notu
2. řádek: označení dynamiky (slabě)
3. řádek: řada 8 tónů
4. řádek: označení dynamiky (silně)
5. řádek: ticho v hudbě
6. řádek: skladbu hrajeme různou silou



Tajenka: \_\_\_\_\_