

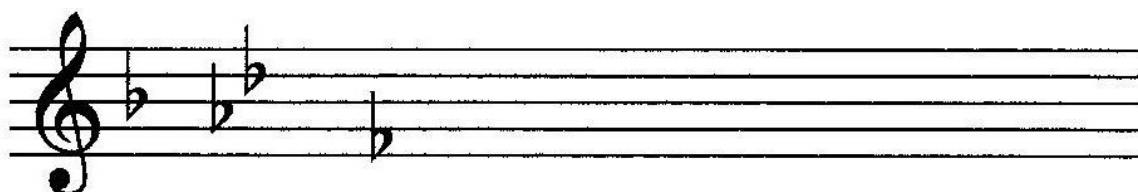
TEST Z HUDEBNÍ NAUKY 2.POLOLETÍ

2.ROČNÍK

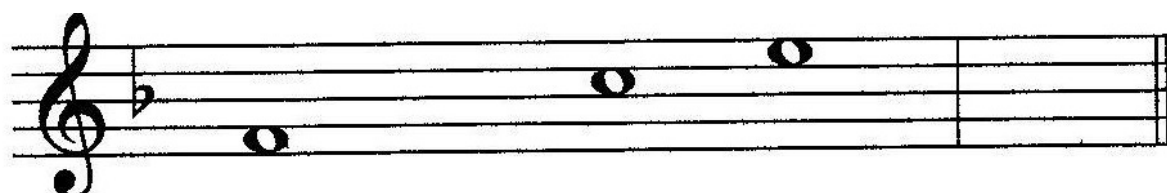
1) Dopln̄ názvy not:





2) Dopln̄ chybějící béčka:




3) Dopln̄ tóny stupnice, vyznač oba půltóny a za stupnici napiš správný akord:



4)

Ve $\frac{3}{8}$ taktu počítáme  na dobu,  na doby.


5) Označ takty, které jsou správně (jsou ve tříosminovém taktu):



6) Co patří k sobě? (spoj čarou)

| | | | |
|------------|------------|--------|----|
| moderato | pomalů | F dur | 3# |
| allegro | mírně | A dur | 1b |
| adagio | zpomalovat | G dur | 4b |
| ritardando | rychle | As dur | 1# |

7) Podle názvu intervalů doplň druhou (vrchní) notu:



PRIMA TERCIE KVINTA SEKUNDA KVARTA

8) Doplň názvy těchto dechových nástrojů:

